


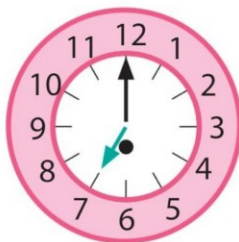
Date : \_\_\_\_\_

## Lecture de l'heure


1 Complète.



Il est .....





Il est .....



Il est .....

2 Relie chaque horloge à l'étiquette et au dessin qui lui correspondent.

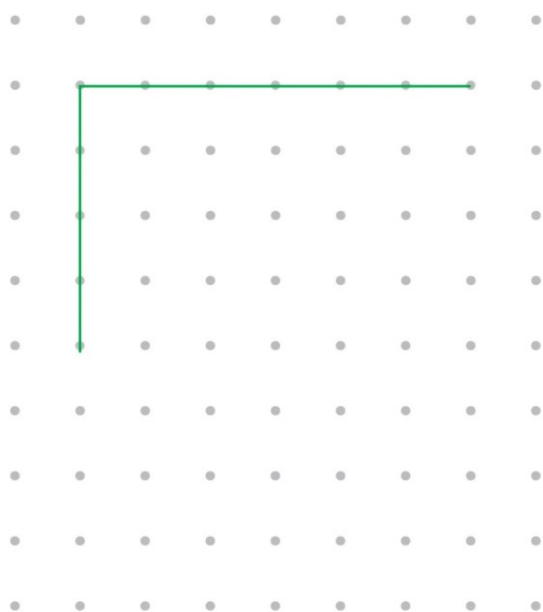


Il est midi.

Il est 10 heures.

## Tracés de figures

3 Termine ce dessin pour obtenir un carré.



4 Termine ce dessin pour obtenir un rectangle. Il ne doit pas être un carré.

